

Exercice 1 (Une courbe paramétrée). On considère la courbe paramétrée suivante

$$\gamma : [0, \pi] \rightarrow \mathbb{R}^2$$

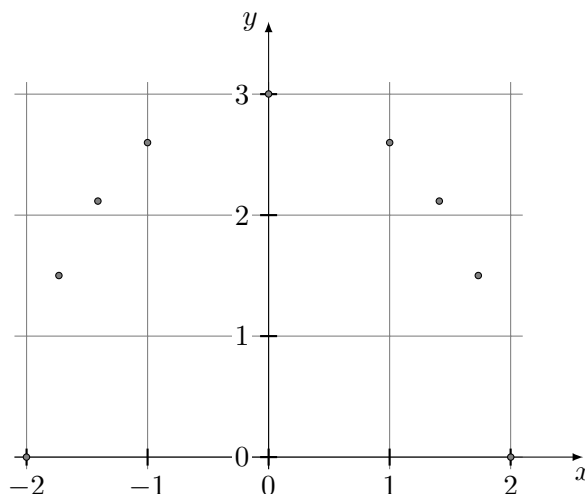
$$t \mapsto (x(t), y(t)) = (2 \cos(t), 3 \sin(t)).$$

1. En évaluant $\gamma(t)$ pour un certain nombre de valeurs de t bien choisies, effectuer un dessin préliminaire de la courbe paramétrée par γ .

Solution: La courbe décrite par γ étant construite à partir des fonctions \cos et \sin , on peut utiliser les valeurs remarquables de ces deux fonctions pour construire un certain nombre de points de la courbe. Les valeurs choisies sont résumées dans le tableau suivant.

t	0	$\frac{\pi}{6}$	$\frac{\pi}{4}$	$\frac{\pi}{3}$	$\frac{\pi}{2}$	$\frac{2\pi}{3}$	$\frac{3\pi}{4}$	$\frac{5\pi}{6}$	π
$x(t)$	2	$\sqrt{3}$	$\sqrt{2}$	1	0	-1	$-\sqrt{2}$	$-\sqrt{3}$	-2
$y(t)$	0	$\frac{3}{2}$	$\frac{3\sqrt{2}}{2}$	$\frac{3\sqrt{3}}{2}$	3	$\frac{3\sqrt{3}}{2}$	$\frac{3\sqrt{2}}{2}$	$\frac{3}{2}$	0

On peut alors obtenir la figure suivante, sur laquelle on devine une courbe qui pourrait être par exemple une parabole ou une demi-ellipse.



2. Montrer que la fonction $t \mapsto 9x(t)^2 + 4y(t)^2$ est constante.

Solution: D'après le théorème de Pythagore, $\cos^2(t) + \sin^2(t) = 1$ quel que soit $t \in \mathbb{R}$. Par conséquent, on a pour tout $t \in \mathbb{R}$ l'égalité

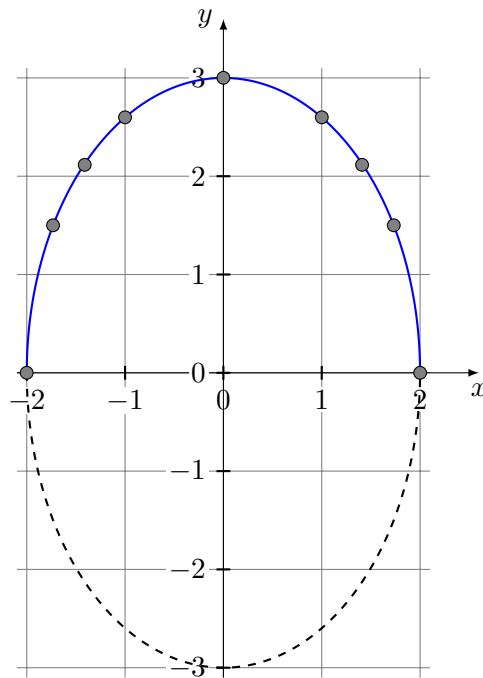
$$9x^2(t) + 4y^2(t) = 36 \cos^2(t) + 36 \sin^2(t) = 36.$$

3. Quelle courbe est représentée par γ ?

Solution: On reconnaît dans l'équation

$$9x^2 + 4y^2 = 36$$

l'équation d'une ellipse centrée à l'origine. D'après la réponse à la question précédente, $(x(t), y(t))$ vivent pour tout $t \in [0, \pi]$ sur cette ellipse. Cependant, puisque $t \in [0, \pi]$, l'intégralité de l'ellipse n'est pas parcourue. A $t = 0$, on part du point de coordonnées $(2, 0)$ sur l'ellipse, pour remonter ensuite vers la partie supérieur du plan et parcourir la demi-ellipse en arrivant au point de coordonnées $(-2, 0)$. La partie inférieure de l'ellipse ne fait pas partie de la courbe (elle en ferait partie si on avait pris t dans l'intervalle $[0, 2\pi]$). La courbe γ est représentée en bleu dans la figure suivante.



Exercice 2 (Folium). On considère la courbe paramétrée définie par les équations

$$\begin{cases} x(t) = \sin(2t), \\ y(t) = \sin(3t), \end{cases} \quad t \in \mathbb{R}.$$

1. En utilisant les propriétés de symétrie de la courbe, montrer qu'on peut réduire le domaine d'étude à $t \in [-\pi, \pi]$, puis à $t \in [0, \pi]$.

Solution: Commençons par rappeler que la fonction sin est périodique de période 2π . La fonction x est donc périodique de période $T_x = \frac{2\pi}{2} = \pi$ et la fonction y est également périodique, de période $T_y = \frac{2\pi}{3}$. Le rapport entre ces deux périodes est

$$\frac{T_y}{T_x} = \frac{\frac{2\pi}{3}}{\pi} = \frac{2}{3}.$$

C'est un nombre rationnel, il existe donc une période commune T entre x et y qui est donnée par

$$T = 3T_y = 2T_x = 2\pi.$$

On peut donc se réduire à l'étude de la courbe sur un domaine de longueur 2π , comme par exemple $[-\pi, \pi]$.

Étudions maintenant la parité de la courbe. La fonction sin est impaire et on a donc

$$x(-t) = -x(t), \quad y(-t) = -y(t).$$

Par conséquent, la courbe pour les $t < 0$ s'obtient par symétrie centrale de la courbe pour les $t > 0$ et réciproquement. On peut donc se restreindre à la partie positive de l'intervalle d'étude précédemment sélectionné, c'est à dire se restreindre à $[0, \pi]$.

2. Exprimer $x(\pi - t)$ et $y(\pi - t)$ en fonction de $x(t)$ et $y(t)$. Montrer que la courbe a une symétrie supplémentaire et qu'on peut restreindre le domaine d'étude à $t \in [0, \frac{\pi}{2}]$.

Solution: On a

$$\begin{aligned} x(\pi - t) &= \sin(2(\pi - t)) = \sin(2\pi - 2t) = \sin(-2t) = -\sin(2t) = -x(t), \\ y(\pi - t) &= \sin(3(\pi - t)) = \sin(3\pi - 3t) = \sin(\pi - 3t) = \sin(3t) = y(t). \end{aligned}$$

Par conséquent, on peut déduire la courbe pour $t \in [\frac{\pi}{2}, \pi]$ de la courbe sur $[0, \frac{\pi}{2}]$ par symétrie par rapport à l'axe des ordonnées. Ainsi, il suffit d'étudier la courbe sur l'intervalle $[0, \frac{\pi}{2}]$.

3. Construire le tableau de variation des fonctions x et y sur l'intervalle $[0, \frac{\pi}{2}]$. On indiquera les valeurs de x , x' , y et y' pour les valeurs $\frac{\pi}{6}$, $\frac{\pi}{4}$ et $\frac{\pi}{3}$.

Solution: Les dérivées de x et y sont

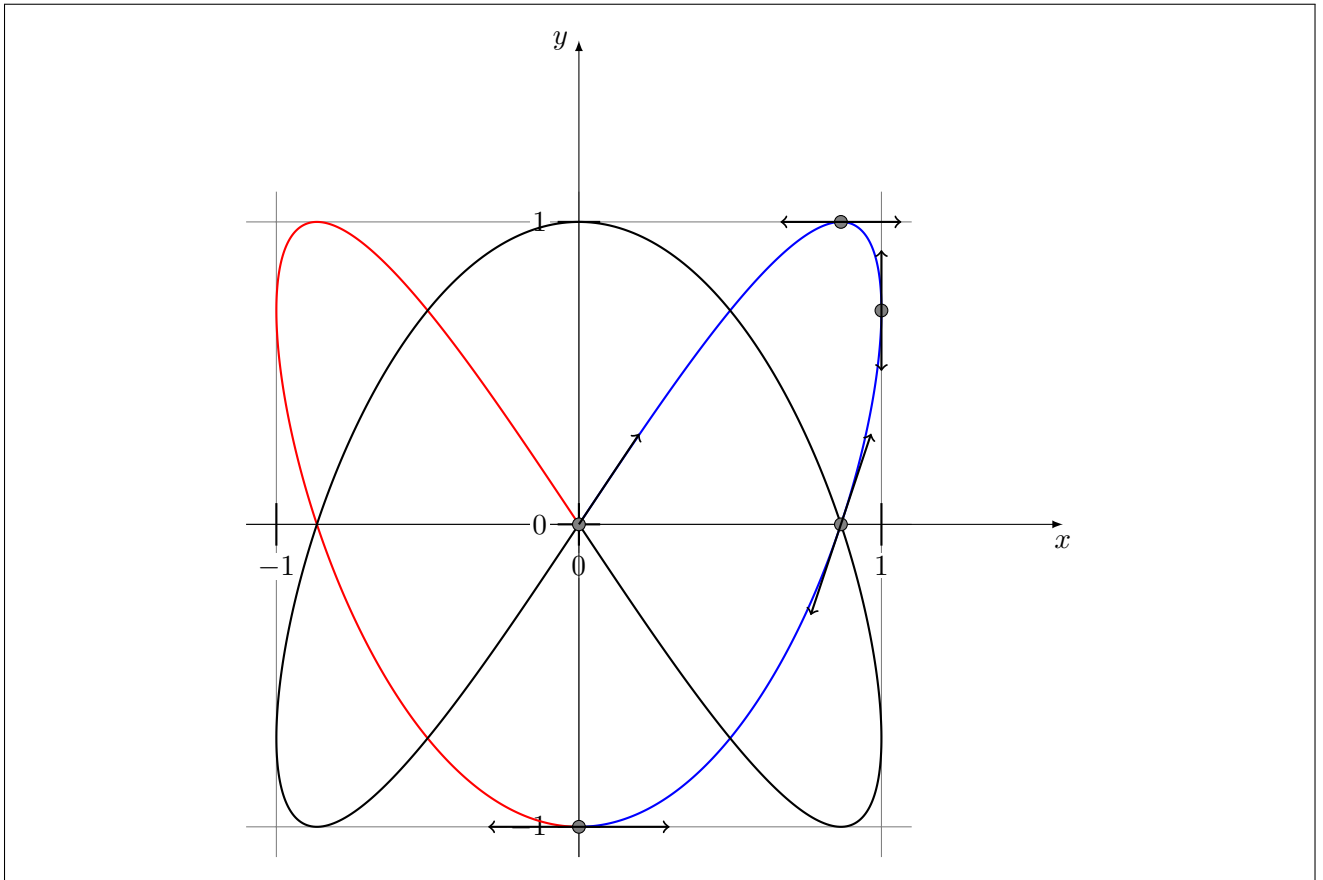
$$x'(t) = 2 \cos(2t), \quad y'(t) = 3 \cos(3t).$$

Le tableau de variation de la courbe est donc le suivant.

t	0		$\frac{\pi}{6}$		$\frac{\pi}{4}$		$\frac{\pi}{3}$		$\frac{\pi}{2}$
$x'(t)$	2	+	1	+	0	-	-1	-	-2
$x(t)$	0	$\nearrow \frac{\sqrt{3}}{2}$		$\nearrow 1$		$\searrow \frac{\sqrt{3}}{2}$		$\searrow 0$	
$y'(t)$	3	+	0	-	$-\frac{\sqrt{3}}{2}$	-	-3	-	0
$y(t)$	0	$\nearrow 1$		$\searrow \frac{\sqrt{2}}{2}$		$\searrow 0$		$\searrow -1$	
$\frac{y'(t)}{x'(t)}$	$\frac{3}{2}$		0		$-\infty$		3		0

4. Dessiner la courbe en commençant par la partie correspondant à $t \in [0, \frac{\pi}{2}]$, puis en utilisant les symétries pour obtenir l'ensemble de la courbe.

Solution: En combinant les informations obtenues, on a la figure suivante. La partie bleue est la courbe obtenue pour $t \in [0, \frac{\pi}{2}]$. La partie rouge s'obtient par symétrie par rapport à l'axe des ordonnées et la partie noire par symétrie centrale.



Exercise 1 (Astroïde). On considère la courbe paramétrée définie par les équations suivantes

$$\begin{cases} x(t) = \cos^3(t), \\ y(t) = \sin^3(t), \end{cases} \quad t \in \mathbb{R}.$$

1. En utilisant les propriétés de symétrie de la courbe, réduire le domaine d'étude à un intervalle de \mathbb{R} .
2. Constuire le tableau de variation pour x et y .

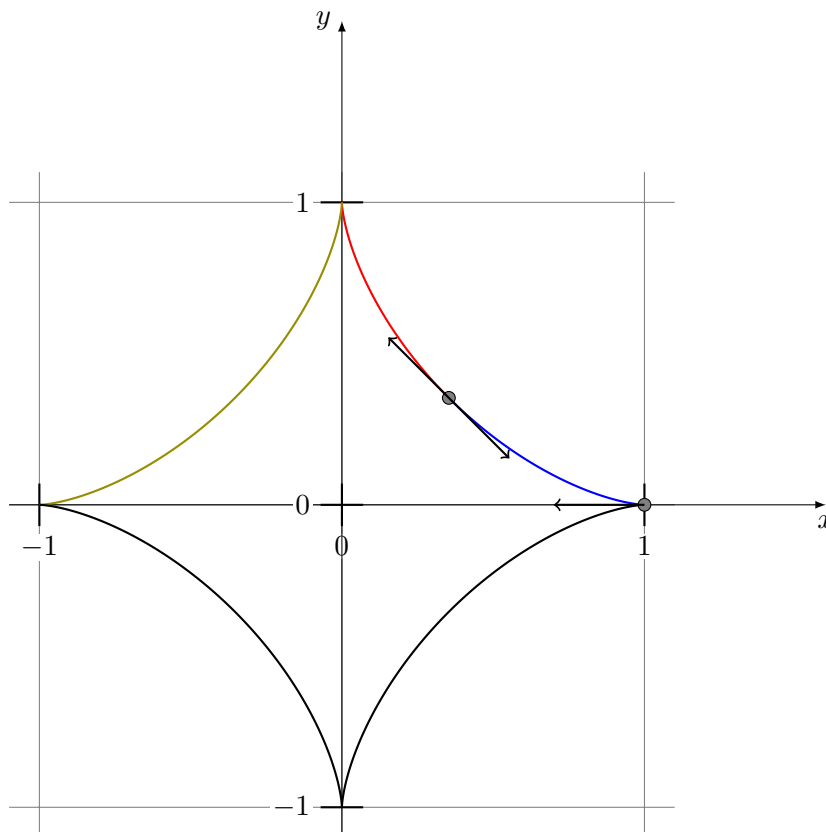
Solution:

t	0		$\frac{\pi}{4}$
$x'(t)$	0	-	$-\frac{3\sqrt{2}}{4}$
$x(t)$	1	\searrow	$\frac{\sqrt{2}}{4}$
$y'(t)$	0	+	$\frac{3\sqrt{2}}{4}$
$y(t)$	0	\nearrow	$\frac{\sqrt{2}}{4}$
$\frac{y'(t)}{x'(t)}$	0		-1

3. Donner les coordonnées des points de la courbe quand $t = 0, \frac{\pi}{2}, \pi$ et donner la pente des tangentes en ces points

4. Dessiner la courbe.

Solution: En combinant les informations obtenues, on a la figure suivante



5. Calculer la longueur et la courbure de l'astroïde.

Exercice 2 (Branches infinies). On considère la courbe paramétrique définie par les équations suivantes.

$$\begin{cases} x(t) = \frac{1}{t(t-1)}, \\ y(t) = \frac{t^2}{1-t}, \end{cases} \quad t \in \mathbb{R}.$$

1. Exprimer $x\left(\frac{1}{t}\right)$ et $y\left(\frac{1}{t}\right)$ en fonction de $x(t)$ et $y(t)$. Déterminer une symétrie de la courbe et en déduire qu'on peut réduire le domaine d'étude à $I = (-1, 1) \setminus \{0\}$.
2. Construire le tableau de variation sur I .

Solution: On a

$$x'(t) = \frac{-2t+1}{t^2(t-1)^2}, \quad y'(t) = -\frac{t(t-2)}{(t-1)^2}.$$

Par conséquent, le tableau de variation est le suivant.

t	-1	0	$\frac{1}{2}$	1	
$x'(t)$	$\frac{3}{4}$	+	+	0	-
$x(t)$	$\frac{1}{2}$	$+\infty$	$-\infty$	-4	$-\infty$
$y'(t)$	$-\frac{3}{4}$	-	+	3	+
$y(t)$	$\frac{1}{2}$	0	0	$\frac{1}{2}$	$+\infty$
$\frac{y'(t)}{x'(t)}$	-1			$\pm\infty$	

3. Étudier les branches infinies de la courbe sur I .

Solution: On a une branche infinie lorsqu'il existe t_0 tel que

$$\lim_{t \rightarrow t_0} x(t) = \pm\infty \text{ ou } \lim_{t \rightarrow t_0} y(t) = \pm\infty.$$

Cette situation se produit en $t = 0$ et $t = 1$. En $t = 0$, on a

$$\lim_{t \rightarrow 0, t < 0} x(t) = +\infty, \quad \lim_{t \rightarrow 0, t > 0} x(t) = -\infty,$$

et dans tous les cas

$$\lim_{t \rightarrow 0} y(t) = 0.$$

L'axe des abscisses est donc une asymptote à la courbe, à gauche et à droite. En $t = 1$, on a

$$\lim_{t \rightarrow 1, t < 1} x(t) = -\infty, \quad \lim_{t \rightarrow 1, t < 1} y(t) = +\infty.$$

La courbe admet donc potentiellement une asymptote oblique. Pour le vérifier, calculons

$$\lim_{t \rightarrow 1, t < 1} \frac{y(t)}{x(t)} = \lim_{t \rightarrow 1, t < 1} (-t^3) = -1.$$

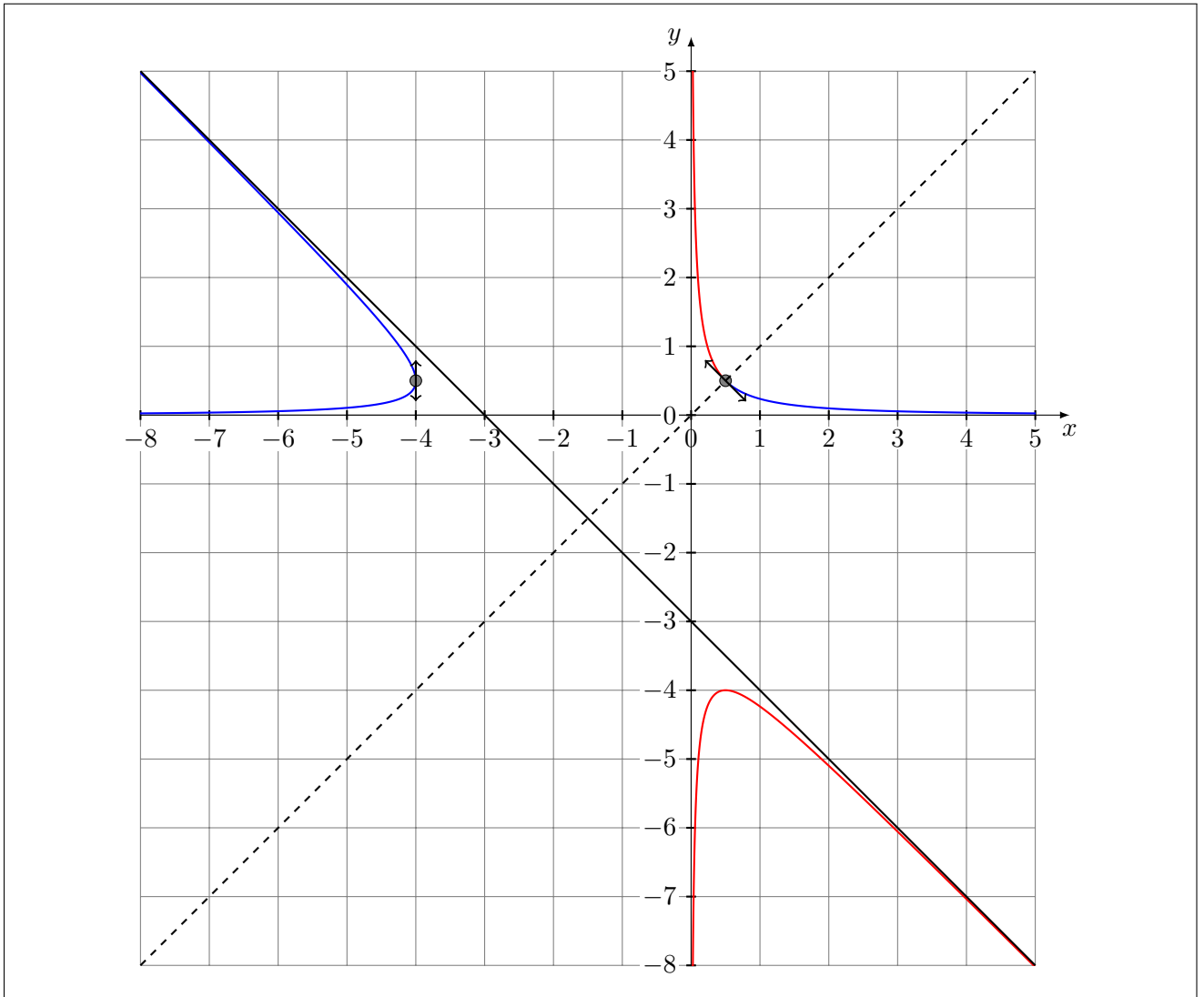
La courbe admet donc bien une asymptote oblique, de pente -1 . Calculons l'ordonnée à l'origine :

$$\lim_{t \rightarrow 1, t < 1} (y(t) - (-1)x(t)) = \lim_{t \rightarrow 1} \left(-\frac{t^2 + t + 1}{t} \right) = -3.$$

La droite d'équation $y = -x - 3$ est donc asymptote à la courbe.

4. Dessiner la courbe.

Solution: En combinant les informations obtenues, on a la figure suivante. La partie bleue correspond à $t \in I$. La partie rouge correspond à $t \in \mathbb{R} \setminus [-1, 1]$ et est obtenue à partir de la partie bleue par symétrie par rapport à la droite $y = x$ (en pointillé). L'asymptote d'équation $y = -x - 3$ est également représentée sur le dessin, ainsi que les tangentes en $t = -1$ et $t = \frac{1}{2}$.



Exercice 3. On considère la courbe polaire définie par

$$\rho(\theta) = \sin(3\theta), \quad \theta \in \mathbb{R}.$$

1. Quelle est la période de ρ ? Quelle propriété graphique en déduire pour la courbe?

Solution: La fonction sin est périodique de période 2π , donc ρ est périodique de période $\frac{2\pi}{3}$. On en déduit que la courbe est invariante par rotation d'angle $\frac{2\pi}{3}$. Par conséquent, pour obtenir la courbe, on commencera par tracer la courbe pour θ dans un intervalle de longueur $\frac{2\pi}{3}$ puis on effectuera 2 rotations successives d'angle $\frac{2\pi}{3}$ du motif obtenu pour avoir l'ensemble de la courbe.

2. Exprimer $\rho(-\theta)$ et $\rho(\pi - \theta)$ en fonction de $\rho(\theta)$. Quelles sont les symétries de la courbe? Montrer qu'on peut réduire le domaine d'étude à $\theta \in [0, \frac{\pi}{3}]$.

Solution: On a

$$\rho(-\theta) = \sin(-3\theta) = -\sin(3\theta) = -\rho(\theta).$$

La courbe est donc symétrique par rapport à l'axe des ordonnées. Par périodicité, on pouvait réduire le domaine d'étude à $\theta \in [-\frac{\pi}{3}, \frac{\pi}{3}]$. Par parité, on peut maintenant réduire le domaine d'étude à $\theta \in [0, \frac{\pi}{3}]$.

On a

$$\rho(\pi - \theta) = \sin(3\pi - 3\theta) = \sin(\pi - 3\theta) = \sin(3\theta) = \rho(\theta).$$

La courbe est donc symétrique par rapport à l'axe des ordonnées, ce que nous savions déjà.

3. Calculer $\rho\left(\frac{\pi}{3} - \theta\right)$ et en déduire une réduction de l'intervalle d'étude à $\theta \in \left[0, \frac{\pi}{6}\right]$.

Solution: On a

$$\rho\left(\frac{\pi}{3} - \theta\right) = \sin(\pi - 3\theta) = \sin(3\theta) = \rho(\theta).$$

La courbe est donc symétrique par rapport à la droite polaire d'équation $\theta = \frac{\pi}{3}$ et on peut donc réduire l'intervalle d'étude à $\left[0, \frac{\pi}{6}\right]$.

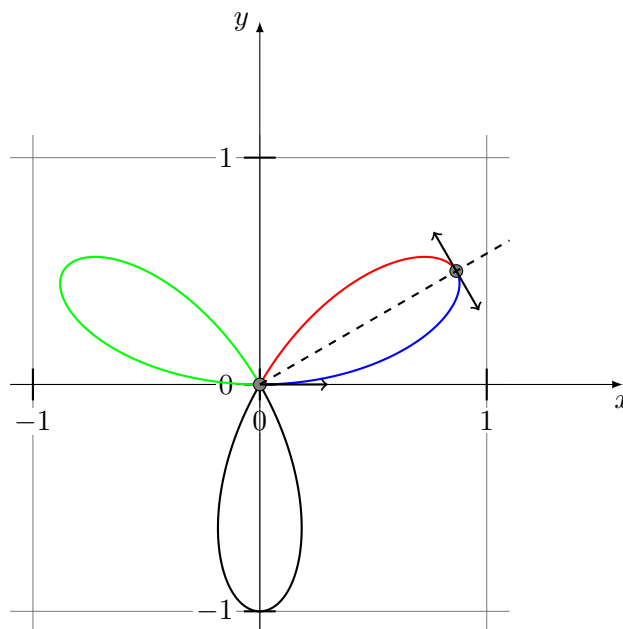
4. Construire le tableau de variation sur $\left[0, \frac{\pi}{6}\right]$ en précisant la pente (relative) des tangentes en 0 et $\frac{\pi}{6}$.

Solution:

t	0		$\frac{\pi}{6}$
$\rho'(t)$	3	+	0
$\rho(t)$	0	↗ 1	
$\frac{\rho(t)}{\rho'(t)}$	0		$+\infty$

5. Dessiner la courbe.

Solution:



Exercice 4. Étudier les courbes polaires définies pour $\theta \in \mathbb{R}$ par

$$(1) \rho(\theta) = \cos(\theta) + 2, \quad (2) \rho(\theta) = \cos^2\left(\frac{\theta}{3}\right), \quad (3) \rho(\theta) = 1 + \sin(3\theta).$$

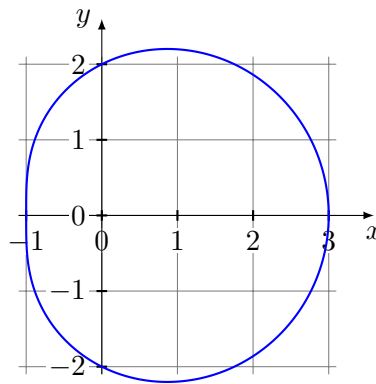
Solution: La fonction ρ est périodique de période 2π , on peut donc restreindre l'étude à un intervalle de longueur 2π , par exemple $[-\pi, \pi]$. La courbe est entièrement décrite par ρ pour θ dans $[-\pi, \pi]$ car l'image

d'une courbe par une rotation d'angle 2π est cette même courbe. Par parité de la fonction \cos , la fonction ρ est également paire et on peut donc réduire l'intervalle d'étude à $[0, \pi]$. La courbe sera symétrique par rapport à l'axe des abscisses. On a

$$\rho'(\theta) = -\sin(\theta).$$

Le tableau de variation sur $[0, \pi]$ est le suivant.

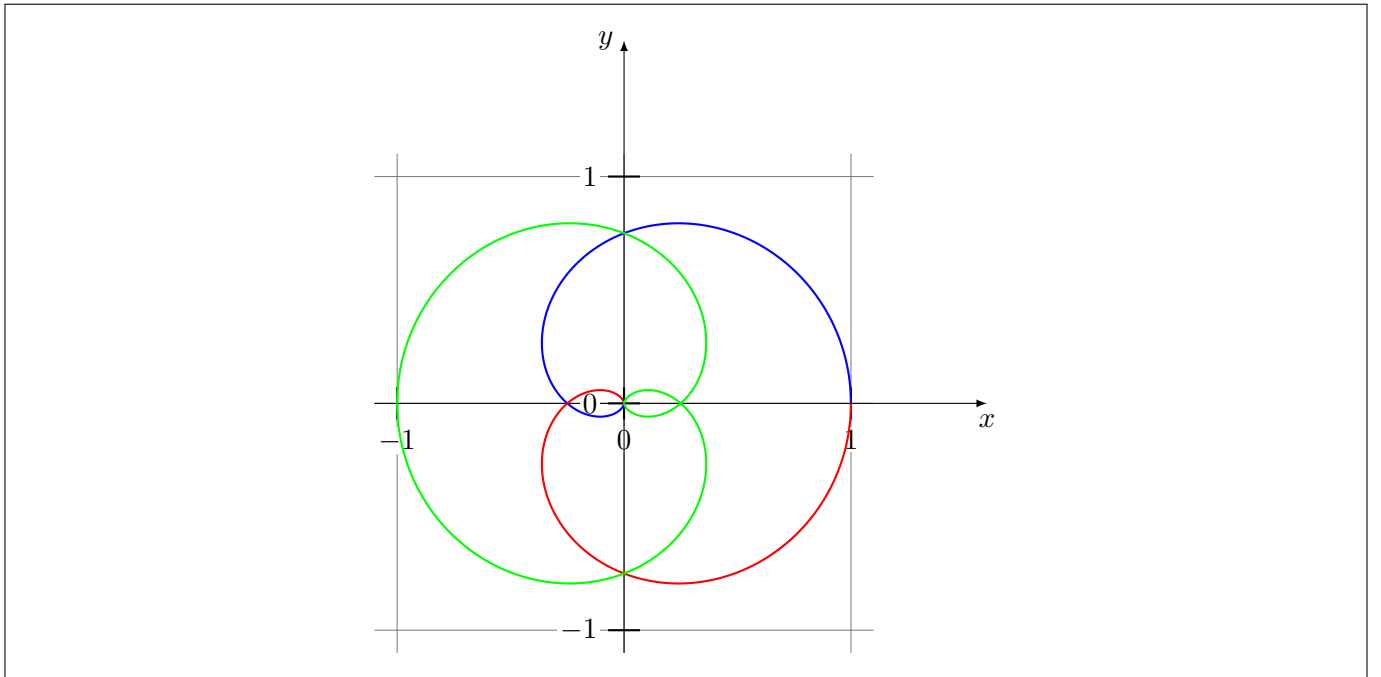
t	0	π
$\rho'(t)$	0	0
$\rho(t)$	3	1
$\frac{\rho(t)}{\rho'(t)}$	$\pm\infty$	$\pm\infty$



Solution:

$$\rho'(\theta) = \frac{2}{3} \cos\left(\frac{\theta}{3}\right) \sin\left(\frac{\theta}{3}\right) = \frac{1}{3} \sin\left(\frac{2\theta}{3}\right).$$

t	0	$\frac{3\pi}{2}$
$\rho'(t)$	0	0
$\rho(t)$	3	1
$\frac{\rho(t)}{\rho'(t)}$	$\pm\infty$	$\pm\infty$



Solution:

$$\rho'(\theta) = 3 \cos(3\theta)$$

t	0		$\frac{3\pi}{2}$
$\rho'(t)$	0	—	0
$\rho(t)$	3		1
$\frac{\rho(t)}{\rho'(t)}$	$\pm\infty$		$\pm\infty$

